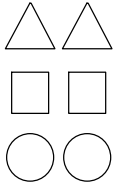
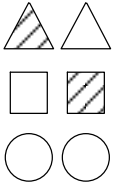
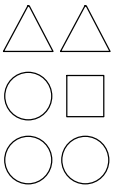
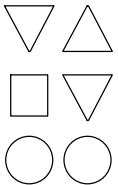
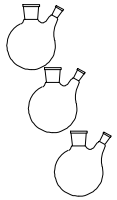
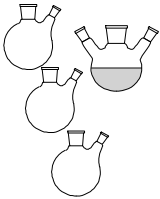
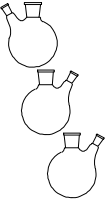
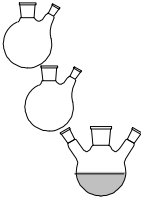
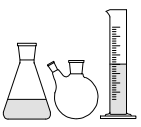
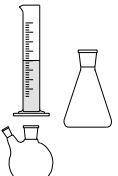
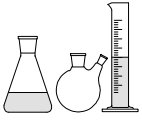
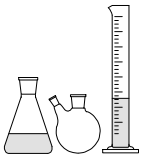
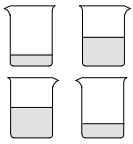
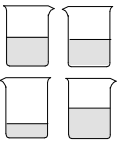
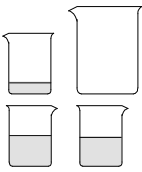
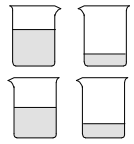
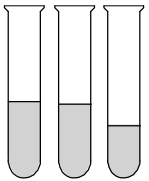
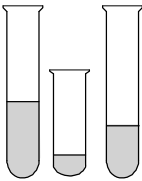
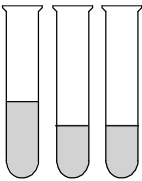
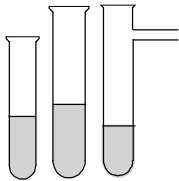






Stufe 7: Laborgeräte 3

Aufgabe 1: - Geh die Bilder zeilenweise durch.

- Umkreist sind Merkmale, in denen sich die Bilder vom jeweils ganz linken Bild unterscheiden. Dabei sind aber Fehler aufgetreten.

- Streiche die falsch umkreisten Merkmale durch. Die erste Zeile ist schon ausgefüllt.

		Richtung Größe Form Füllung Anzahl		Richtung Größe Form Füllung Anzahl		Richtung Größe Form Füllung Anzahl
		Richtung Größe Form Füllung Anzahl		Richtung Größe Form Füllung Anzahl		Richtung Größe Form Füllung Anzahl
		Richtung Größe Form Füllung Anzahl		Richtung Größe Form Füllung Anzahl		Richtung Größe Form Füllung Anzahl
		Richtung Größe Form Füllung Anzahl		Richtung Größe Form Füllung Anzahl		Richtung Größe Form Füllung Anzahl
		Richtung Größe Form Füllung Anzahl		Richtung Größe Form Füllung Anzahl		Richtung Größe Form Füllung Anzahl
		Richtung Größe Form Füllung Anzahl		Richtung Größe Form Füllung Anzahl		Richtung Größe Form Füllung Anzahl